

**Proposed Key Answers for the post of 'Driver'**  
**(Notification No.85/2019)**

The proposed key answers, marked in the Question booklet (A–Series), for the written examination conducted for the post of 'Driver' on 20.07.2019.A.N. (Saturday) are hosted herewith.

Any objection with regard to any of the proposed key answer should be sent by the candidates to the Registrar (Recruitment), High Court, Madras only by email ([www.recruitment.mhc@gov.in](mailto:www.recruitment.mhc@gov.in)) within two days from today. In such communication, Registration Number, Name and address of the candidate, Question Number and answer for such question, according to the candidate, with supporting material for such claim should invariably be quoted. Any representation received after two days or without any of the above requisite particulars will receive no attention.

Dated: 23.07.2019.

Place: Chennai.

Sd/- xxxx.

Registrar (Recruitment).

\*\*\*\*\*

# MDR030

Booklet Series : **A**

Booklet No.

**2002597**

பதிவு எண்

--	--	--	--	--

அனுமதிக்கப்பட்டுள்ள நேரம் : 75 நிமிடங்கள்  
(1.15 மணி)

மொத்த மதிப்பெண்கள் : 50

வினாக்களுக்கு பதிலளிக்கும் முன் கீழ்க்கண்ட அறிவுரைகளை கவனமாகப் படிக்கவும்

1. இந்த வினாத் தொகுப்பு தேர்வு தொடங்குவதற்கு 10 நிமிடங்களுக்கு முன்னதாக விண்ணப்பதாரர்களுக்கு வழங்கப்படும்.
2. இந்த வினாத் தொகுப்பு 50 வினாக்களைக் கொண்டுள்ளது. விடையளிக்க தொடங்கும் முன் இவ்வினாத் தொகுப்பில் எல்லா வினாக்களும் வரிசையாக இடம் பெற்றுள்ளனவா என்பதையும், இடையில் ஏதும் வெற்றுத்தாள்கள் உள்ளனவா என்பதையும் சரிபார்த்துக் கொள்ளவும். ஏதேனும் குறைபாடு இருப்பின், அதனை தேர்வு தொடங்குவதற்கு முன்பு அறைகண்காணிப்பாளரிடம் தெரிவித்து, சரியாக உள்ள வேறொரு வினாத் தொகுப்பினை பெற்றுக் கொள்ள வேண்டும். தேர்வு தொடங்கிய பின்பு, முறையிட்டால் வினாத் தொகுப்பு மாற்றித் தரப்படமாட்டாது.
3. பகுதி (அ) மற்றும் (ஆ)-ல் (Part A and Part B) உள்ள எல்லா வினாக்களும் சமமான மதிப்பெண்கள் கொண்டவை. ஒவ்வொரு சரியான விடைக்கும் தலா ஒரு மதிப்பெண் வழங்கப்படும். தவறான விடைக்கு மதிப்பெண் குறைக்கப்படமாட்டாது. (No Negative Mark)
4. உங்களுடைய பதிவு எண்ணை இந்தப் பக்கத்தின் வலது மேல் மூலையில் அதற்கென அமைந்துள்ள இடத்தில் எழுத வேண்டும். வேறு எதையும் வினாத் தொகுப்பில் எழுதக் கூடாது.
5. விடைகளை குறித்துக்காட்ட OMR விடைத்தாள் ஒன்று உங்களுக்கு அறைக் கண்காணிப்பாளரால் தரப்படும்.
6. உங்களுடைய வினாத்தொகுப்பு எண் (Question Booklet Number) மற்றும் அதன் வரிசையை விடைத்தாளின் முதல் பக்கத்தில் அதற்கென அமைந்துள்ள இடத்தில் நீலம் அல்லது கருமை நிற மையுடைய பந்துமுனைப் பேனாவினால் குறித்துக் காட்ட வேண்டும். மேற்கண்டவற்றை விடைத்தாளில் நீங்கள் குறித்துக் காட்டத் தவறினால் அறிவிக்கையில் குறிப்பிட்டுள்ளவாறு நடவடிக்கை மேற்கொள்ளப்படும்.

SEAL

[Turn over

SPACE FOR ROUGH WORK

5258009

## Part A

பகுதி அ

1. The correct way of starting the vehicle is
- (A) Press the brake Pedal and Start ✓  
(B) Press the Clutch Pedal and Start  
(C) Press the Accelerator and Start  
(D) Press the Clutch and Accelerator simultaneously

வண்டியை ஸ்டார்ட் செய்ய சரியான முறை

- (A) பிரேக் பெடலை அழுத்தி ஸ்டார்ட் செய்ய வேண்டும்  
(B) கிலச் பெடலை அழுத்தி ஸ்டார்ட் செய்ய வேண்டும்  
(C) ஆக்ஸிலேட்டரை அழுத்தி ஸ்டார்ட் செய்ய வேண்டும்  
(D) கிலச் மற்றும் ஆக்ஸிலேட்டரை ஒரே நேரத்தில் அழுத்தி ஸ்டார்ட் செய்ய வேண்டும்

2. National Highway Milestone will have \_\_\_\_\_ colour.

- (A) Yellow ✓ (B) Blue  
(C) Black (D) Green

தேசிய நெடுஞ்சாலை மைல்கல் \_\_\_\_\_ கலரில் இருக்கும்

- (A) மஞ்சள் (B) நீலம்  
(C) கருப்பு (D) பச்சை

3. State Highway Milestone will have \_\_\_\_\_ colour.

- (A) Yellow (B) Blue  
(C) Black (D) Green ✓

மாநில நெடுஞ்சாலை மைல்கல் \_\_\_\_\_ கலரில் இருக்கும்

- (A) மஞ்சள் (B) நீலம்  
(C) கருப்பு (D) பச்சை

4. What is the ideal distance required between the vehicles at a parking place?
- (A) 5 feet (B) 3 feet ✓  
(C) 8 feet (D) 6 feet

ஒன்றன் பின் ஒன்றாக வாகனத்தை நிறுத்தும் பொழுது விடவேண்டிய பொதுவான இடைவெளி

- (A) 5 அடி (B) 3 அடி  
(C) 8 அடி (D) 6 அடி

5. You as the driver of a car was waiting at a signal since 5 minutes. When the signal turns green, a college student with his friend suddenly jumps in your way and tries to cross the road. What will you do?
- (A) Since there is green signal, You can proceed with driving  
(B) Catch hold of him and hand Over to Police for violation of Traffic Signal  
(C) Wait for him to pass and horn if necessary ✓  
(D) Get down from vehicle and stop other vehicles also

நீங்கள் ஒரு கார் ஓட்டுனராக போக்குவரத்து சிக்னலில் 5 நிமிடங்களாக காத்துக்கொண்டிருக்கிறீர்கள். பச்சை நிற சைகை விழும் போது ஒரு கல்லூரி மாணவர் அவர் நண்பருடன் திடீரென்று உங்கள் வழியில் குதித்து சாலையை கடக்க முயற்சிக்கிறார். நீங்கள் என்ன செய்வீர்கள்?

- (A) பச்சை நிற சைகை இருப்பதால் நீங்கள் வாகனத்தை ஓட்டிச் செல்லலாம்  
(B) அந்த மாணவனைப்பிடித்து போக்குவரத்து சைகையை மீறியதற்காக காவல் துறையினரிடம் ஒப்படைக்கலாம்  
(C) அந்த மாணவன் கடக்கும் வரை காத்திருந்து, தேவைப்பட்டால் ஒலி எழுப்பலாம்  
(D) உங்கள் வாகனத்திலிருந்து கீழே இறங்கி மற்ற வாகனங்களை நிறுத்தலாம்

6. Validity of "Pollution Under Control" certificate is for \_\_\_\_\_

- (A) Two years (B) One year  
(C) Six months ✓ (D) Nine months

மாசு கட்டுப்பாடு சான்றிதழின் செல்லுபடியாகும் கால நிர்ணயம்

- (A) 2 வருடம் (B) ஒரு வருடம்  
(C) 6 மாதம் (D) 9 மாதம்

7. Minimum distance to be kept from the vehicle going in front

- (A) 10 meters
- (B) 5 meters
- (C) 12 meters
- (D) Safe distance according to the speed of both the vehicles ✓

முன்னால் செல்லும் வாகனத்திலிருந்து பின்னால் செல்லும் வாகனம் எவ்வளவு இடைவெளி விட வேண்டும்

- (A) 10 மீ
- (B) 5 மீ
- (C) 12 மீ
- (D) இரண்டு வாகனத்தின் வேகத்தை கருத்தில் கொண்டு பாதுகாப்பான தூரம் விட வேண்டும்

8. If the road is marked with broken white lines, on the centre you

- (A) Shall not change the track
- (B) Can change the track, if required ✓
- (C) Shall stop the vehicle
- (D) Should stop vehicle, since it is school area

சாலையில் நடுவே வெள்ளைக் கோடுகளுக்கு இடையே இடைவெளி விட்டு இருந்தால், நீங்கள்

- (A) தடம் மாறக்கூடாது
- (B) தேவைப்பட்டால் தடம் மாறலாம்
- (C) வாகனத்தை நிறுத்த வேண்டும்
- (D) அது பள்ளி வளாகம் என்பதால் வாகனத்தை நிறுத்த வேண்டும்

9. Maximum speed permissible of a motor car near educational institution is

- (A) 20 Km. ✓
- (B) 25 Km.
- (C) 30 Km. ✓
- (D) 40 Km.

பள்ளி வளாகப் பகுதி அருகில் இயக்கக் கூடிய ஒரு மோட்டார் காரின் அதிகபட்ச அனுமதிக்கப்பட்ட வேகம்

- (A) 20 கி.மீ.
- (B) 25 கி.மீ.
- (C) 30 கி.மீ.
- (D) 40 கி.மீ.

10. Exhaust of your vehicle contains \_\_\_\_\_
- (A) Nitrogen (B) Carbon dioxide  
(C) Carbon monoxide (D) Hydrogen


- வாகனத்திலிருந்து வரும் புகையில் \_\_\_\_\_ உள்ளது
- (A) நைட்ரஜன் (B) கார்பன்-டை-ஆக்ஸைடு  
(C) கார்பன் மோனாக்ஸைடு (D) ஹைட்ரஜன்

11. Match the signs indicated below with the correct represents

கீழே உள்ள சைகை குறியீடுகளை சரியானவற்றுடன் பொருத்துக.




- (a) Crossroad ahead  
குறுக்குச் சாலை வருகிறது



- (b) Slippery road ahead  
சாலை வழக்கும்



- (c) Over taking not allowed  
முந்துவது தடை செய்யப்பட்டுள்ளது

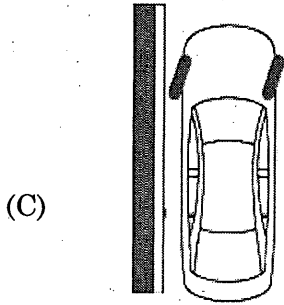
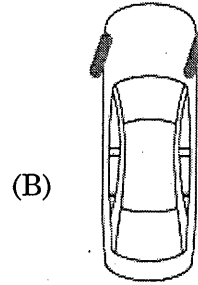
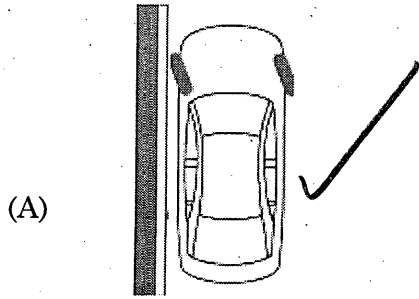


- (d) No stopping or standing ahead  
வாகனத்தை இங்கு நிற்கவோ,  
நிறுத்தவோ கூடாது

- (A) 1-c, 2-a, 3-b, 4-d ✓  
(C) 1-a, 2-b, 3-d, 4-c

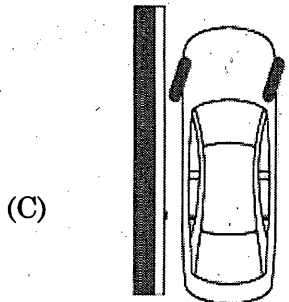
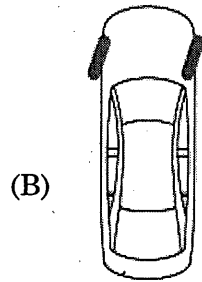
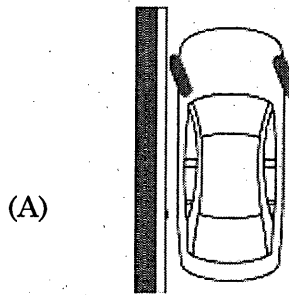
- (B) 1-b, 2-a, 3-c, 4-d  
(D) 1-d, 2-b, 3-a, 4-c

12. When you are parking on declined slope adjoining plat form, how will you park the vehicle safe in addition to applying hand brake firmly?



(D) None of the above

செங்குத்தான சரிவில் உங்கள் வாகனத்தை நீங்கள் பிளாட்பாரம் ஒட்டி கை பிரேக்கை போட்டு நிறுத்தி வேறு என்ன வழியில் வாகனத்தை நிறுத்தம் செய்வீர்கள்?



(D) மேலே கண்ட எதுவும் இல்லை



13. VIBGYOR is associates with \_\_\_\_\_

- (A) Ice Berg ✓ (B) Solar System  
(C) Rain Bow ✓ (D) Mirage

விப்ஜியார் (VIBGYOR) எதனை தொடர்புபடுத்தி அமைகிறது?

- (A) பனிக்கட்டி (B) சூரியக்குடும்பம்  
(C) வானவில் (D) கானல் நீர்

14. Who Wrote Mahabaratha?

- (A) Valmiki (B) Viyasar ✓  
(C) Tulsi Das (D) Vishnu Sharma

மகாபாரதத்தை எழுதியவர் யார்?

- (A) வால்மீகி (B) வியாசர்  
(C) துளசிதாஸ் (D) விஷ்ணுசர்மா

15. Who is the Chief Justice of Tamil Nadu?

- (A) Hon'ble Justice Indra Bannerjee  
(B) Hon'ble Justice Manjula Chellur  
(C) Hon'ble Justice Geetha Mittal  
(D) Hon'ble Justice Vijaya Kamalesh Tahilramani ✓

சென்னை உயர்நீதிமன்றத்தின் தலைமை நீதிபதி யார்?

- (A) மாண்புமிகு நீதியரசர் இந்திரா பானர்ஜி  
(B) மாண்புமிகு நீதியரசர் மஞ்சளா செல்லூர்  
(C) மாண்புமிகு நீதியரசர் கீதா மிட்டல்  
(D) மாண்புமிகு நீதியரசர் விஜயா கமலேஷ் தகில் ரமணி

16. The Car Steering holding position as per clock is

- (A) 12 - 6 (B) 9 - 3 ✓  
(C) 6 - 12 (D) 8 - 4

கார் ஸ்டீயரிங் பிடிக்க சரியான நிலை கடிகார வடிவில் கூறுக

- (A) 12 - 6 (B) 9 - 3  
(C) 6 - 12 (D) 8 - 4

17. The tyre when inflated

- (A) Two sides of tyre will get worn out ✓  
(B) Centre position of tyre will get worn out  
(C) The outer side wall of the tyre will get worn out  
(D) Tyres will not get worn out

டயரில் காற்று மிகவும் குறைந்தால்

- (A) டயரின் இரண்டு பக்கமும் சேதமடையும்  
(B) டயரின் நடுப்பக்கம் சேதமடையும்  
(C) டயரின் வெளிப்பக்கவாட்டுப் பகுதி சேதமடையும்  
(D) டயர் சேதமடையாது

18. BS IV means

- (A) Bharath Stage IV ✓ (B) Benz Stage IV  
(C) Bureau Standard IV (D) British Standard IV

பி எஸ் IV என்பது \_\_\_\_\_

- (A) பாரத் ஸ்டேஜ் IV (B) பென்ஸ் ஸ்டேஜ் IV  
(C) பியூரோ ஸ்டான்டர்ட் IV (D) பிரிட்டிஷ் ஸ்டான்டர்ட் IV

19. ABS means

- (A) Air Brake System (B) Air Lock Brake System  
(C) Auto Lock Brake System (D) Anti Lock Brake System ✓

ஏபிஎஸ் என்றால் \_\_\_\_\_

- (A) ஏர் பிரேக் சிஸ்டம் (B) ஏர் லாக் பிரேக் சிஸ்டம்  
(C) ஆட்டோ லாக் பிரேக் சிஸ்டம் (D) ஆண்டி லாக் பிரேக் சிஸ்டம்

20. Avenue means

- (A) Broad Road (B) Buildings on both sides  
(C) Residential area (D) Trees on both side ✓

அவென்யு என்பது

- (A) அகலமான சாலை (B) இரண்டு பக்கமும் கட்டிடங்கள் இருக்கும்  
(C) குடியிருப்புப் பகுதி (D) இருபுறமும் மரங்கள் இருக்கும்

21. Compulsory signs are exhibited in which shape?

- (A) Triangle (B) Rectangle  
(C) Circle ✓ (D) Square

கட்டாயம் பின்பற்ற வேண்டிய போக்குவரத்து அறிவிப்புப் பலகை எந்த வடிவத்தில் இருக்கும்?

- (A) முக்கோணத்தில் (B) செவ்வகத்தில்  
(C) வட்டத்தில் (D) சதுரத்தில்

22. Two cars approaching opposite side each, facing a narrow road on either side due to barricade. Who has preference to pass first?

- (A) The car coming in over speed has priority to pass  
(B) Heavy vehicle should pass first  
(C) Neither has priority but the car which lamps head light and blow horn has priority  
(D) Neither car has priority But any one of them can show courtesy by giving way to the other ✓

சாலையில் போலீஸ் வைத்துள்ள தடுப்புக் கம்பியை நோக்கி குறுகலான இடத்திற்கு இரண்டு கார்கள் எதிர் எதிர் திசையில் வரும் பொழுது எந்த வண்டி முதலில் செல்லலாம்?

- (A) அதிவேகமாக வரும் கார் முதலில் செல்லலாம்  
(B) கனரக வாகனம் முதலில் செல்லலாம்  
(C) எந்த வண்டிக்கும் முன்னுரிமை கிடையாது ஆனால் எந்த வண்டி முகப்பு விளக்கை எரியவிட்டு, சத்தம் எழுப்புமோ அது முந்திச் செல்லலாம்  
(D) இரண்டு வண்டிக்குமே முன்னுரிமை கிடையாது ஆனால் இரண்டு கார்களுமே ஒருவருக்கு ஒருவர் வழிவிட்டுச் செல்லலாம்

23. When you reach an intersection where there is no signal, light or policeman, you shall

- (A) Give way to traffic approaching the intersection from other roads
- (B) Give proper signal, Sound the horn and proceed ✓
- (C) Give way to traffic approaching the intersection on your left side and proceed after giving necessary signal
- (D) Give way to traffic approaching the intersection on your right side and proceed after giving necessary signal

போக்குவரத்து சைகையோ, விளக்கோ அல்லது காவல் துறையினரோ இல்லாத சாலைகள் சந்திக்கும் இடத்தை நீங்கள் அடையும் போது

- (A) மற்ற சாலைகளிலிருந்து சந்திப்பை நெருங்கும் மற்ற வாகனங்களுக்கு வழி கொடுக்க வேண்டும்
- (B) முறையான சைகையை காட்டி, ஒலி எழுப்பி நீங்கள் செல்லலாம்
- (C) உங்கள் இடது புறத்திலிருந்து வரும் வாகனத்திற்கு வழி கொடுத்து விட்டு பின்னர் தேவையான சைகையை காட்டி நீங்கள் செல்லலாம்
- (D) உங்கள் வலது புறத்திலிருந்து வரும் வாகனத்திற்கு வழி கொடுத்துவிட்டு பின்னர் தேவையான சைகையை காட்டி நீங்கள் செல்லலாம்

24. While a vehicle entering a main road from a branch road, the driver shall give preference to

- (A) The vehicle coming from left
- (B) The vehicle coming from right
- (C) To all vehicle proceeding along with the main vehicle ✓
- (D) None of the above

கிளைச் சாலையிலிருந்து பிரதான சாலைக்குள் வாகனம் நுழையும் போது, கிளைச் சாலையின் ஓட்டுனர் எந்த வாகனத்திற்கு முன்னுரிமை கொடுக்க வேண்டும்

- (A) இடது பக்கத்திலிருந்து வரும் வாகனத்திற்கு
- (B) வலது பக்கத்திலிருந்து வரும் வாகனத்திற்கு
- (C) பிரதான சாலையில் வரும் அனைத்து வாகனத்திற்கும்
- (D) மேலே கண்ட எதுவும் இல்லை

25. If it takes 3 hours to drive a distance of 192 kilometer on a motor way, what would be your average speed in kilometer?

- (A) 70 Km. (B) 74 Km.  
(C) 60 Km. (D) 64 Km. ✓

192 கி.மீ. தூரத்தை 3 மணிநேரத்தில் மோட்டார் காரில் கடந்தால் ஒரு மணிநேரத்தில் கடக்கும் சராசரி கிலோ மீட்டர் என்ன?

- (A) 70 கி.மீ. (B) 74 கி.மீ.  
(C) 60 கி.மீ. (D) 64 கி.மீ.

26. How many cells are used in a 12 volt car battery?

- (A) 4 (B) 6 ✓  
(C) 8 (D) 12

12 வோல்ட் கார் பாட்டரியில் எத்தனை செல்கள் இருக்கும்?

- (A) 4 (B) 6  
(C) 8 (D) 12

27. The safe way to stop the vehicle is \_\_\_\_\_

- (A) Press clutch and then brake  
(B) Press brake and then clutch ✓  
(C) Press brake and clutch simultaneously  
(D) Press brake only

பாதுகாப்பாக வாகனத்தை நிறுத்த \_\_\_\_\_

- (A) முதலில் கிலட்ச்சை அழுத்தி பின்னர் பிரேக்கை அழுத்த வேண்டும்  
(B) முதலில் பிரேக்கை அழுத்தி பின்னர் கிலட்ச்சை அழுத்த வேண்டும்  
(C) ஒரே நேரத்தில் பிரேக் மற்றும் கிலட்ச்சை சேர்த்து அழுத்த வேண்டும்  
(D) பிரேக் மட்டும் அழுத்த வேண்டும்

28. Match the signs indicated below with the correct represents

கீழே உள்ள சைகை குறியீடுகளை சரியானவற்றுடன் பொருத்துக.

1.



(a) Move forward since prohibited

முன்னால் முந்திச் செல்வது தடை

செய்யப்பட்டுள்ளது

2.



(b) Merging

சாலை இணைகிறது


3.



(c) Dangerous Dip

அபாயகரமான இறக்கம்

4.



(d) Steep ascend

செங்குத்தான ஏற்றம்

(A) 1-b, 2-a, 3-c, 4-d

(B) 1-c, 2-a, 3-b, 4-d

(C) 1-a, 2-b, 3-d, 4-c

(D) 1-b, 2-c, 3-d, 4-a ✓

29. The important function recently celebrated in Madras High Court for the Building is

- (A) 100<sup>th</sup> year Celebration (B) 125<sup>th</sup> Year Celebration ✓  
(C) 150<sup>th</sup> year Celebration (D) 200<sup>th</sup> year Celebration

சென்னை உயர்நீதிமன்றக் கட்டிடம் தொடர்பாக என்ன முக்கியமான விழா நடந்தது?

- (A) 100வது ஆண்டு விழா (B) 125வது ஆண்டு விழா  
(C) 150வது ஆண்டு விழா (D) 200வது ஆண்டு விழா

30. In case you witness an accident on the road and the person is severely injured, who should you contact first?

- (A) First the victim relative should be contacted  
(B) First an ambulance should be called ✓  
(C) First, the police should be contacted  
(D) None of the above

சாலை விபத்தில் பயங்கரமான காயம் அடைந்த நபரை பார்த்த நீங்கள் முதலில் யாரிடம் தகவல் சொல்ல வேண்டும்?

- (A) காயமடைந்த நபரின் உறவினர்களுக்கு  
(B) அவசர ஊர்திக்கு  
(C) காவல் துறையிடம்  
(D) மேலே கூறிய எதுவுமில்லை

31. What is the full form of NHAI?

- (A) National Highway Authority of India ✓  
(B) New Highway Authority of India  
(C) National Highest Authority of India  
(D) National Highway Automobile of India

NHAI என்பதன் விரிவாக்கம்

- (A) நேஷனல் ஹைவே அதாரிட்டி ஆப் இந்தியா  
(B) நியூ ஹைவே அதாரிட்டி ஆப் இந்தியா  
(C) நேஷனல் ஹையஸ்ட் அதாரிட்டி ஆப் இந்தியா  
(D) நேஷனல் ஹைவே ஆட்டோமொபைல் ஆப் இந்தியா

32. Which bird cannot fly

(A) Peacock

(C) Ostrich

(B) Duck

(D) Cock

எந்தப் பறவையால் பறக்க இயலாது?

(A) மயில்

(C) நெருப்புக்கோழி

(B) வாத்து

(D) சேவல்

33. Who is the Vice President of India?

(A) Venkiah Naidu

(C) Ram Nath Govindh

(B) Chandra Babu Naidu

(D) Nithin Katkare

இந்தியாவின் துணை ஜனாதிபதி யார்?

(A) வெங்கையா நாயுடு

(C) ராம்நாத் கோவிந்த்

(B) சந்திரபாபு நாயுடு

(D) நிதின் கட்கரே

34. Largest continent in the World \_\_\_\_\_

(A) Africa

(C) Asia

(B) America

(D) Australia

உலகிலேயே மிகப் பெரிய கண்டம் \_\_\_\_\_

(A) ஆப்ரிக்கா

(C) ஆசியா

(B) அமெரிக்கா

(D) ஆஸ்திரேலியா

35. How many weeks are there in a year?

(A) 49

(C) 51

(B) 50

(D) 52

ஒரு வருடத்தில் மொத்தம் எத்தனை வாரங்கள் உள்ளன?

(A) 49

(C) 51

(B) 50

(D) 52



## Part B

பகுதி ஆ

36. தாய் மொழியில் படித்தால் \_\_\_\_\_ அடையலாம்.
- (A) பன்மை (B) மேன்மை ✓  
(C) பொறுமை (D) பெருமை
37. எளிது என்னும் சொல்லின் எதிர்ச்சொல் \_\_\_\_\_
- (A) அரிது ✓ (B) சிறிது  
(C) பெரிது (D) வறிது
38. அழகின் சிரிப்பு நூலை எழுதியவர் \_\_\_\_\_
- (A) பாரதிதாசன் ✓ (B) பாரதியார்  
(C) யுவபாரதி (D) பாலபாரதி
39. வீட்டின் பயன்பாட்டிற்காக பொருள் வாங்குபவர் \_\_\_\_\_
- (A) நுகர்வோர் ✓ (B) தொழிலாளி  
(C) முதலீட்டாளர் (D) நெசவாளி
40. விருந்தினரின் முகம் எப்போது வாடும்?
- (A) நம் முகம் மாறினால் ✓ (B) நாம் வீடு மாறினால்  
(C) நாம் நன்கு வரவேற்றால் (D) நாம் முகவரி மாற்றினால்

41. உதித்த என்ற சொல்லிற்குரிய எதிர்ச்சொல் \_\_\_\_\_

- (A) மறைந்த ✓ (B) நிறைந்த  
(C) குறைந்த (D) தோன்றிய

42. மாணவர்கள் நூல்களை \_\_\_\_\_ கற்க வேண்டும்.

- (A) மாகுற (B) மாசுற ✓  
(C) மயக்கமுற (D) வியக்கமுற

43. பழமொழியை நிறைவு செய்க :

மின்னுவதெல்லாம் \_\_\_\_\_

- (A) நட்சத்திரமல்ல (B) பெண்ணல்ல  
(C) பொன்னல்ல ✓ (D) வைரமல்ல

44. பொருந்தாத சொல்லைக் கண்டறிக

- (A) கர்நாடகம் (B) கேரளா  
(C) இலங்கை ✓ (D) ஆந்திரா

45. பிணி என்பதன் பொருள் \_\_\_\_\_

- (A) நோய் ✓ (B) வறுமை  
(C) ஏழை (D) வன்சொல்

46. ஐந்திலக்கணம் என்பது \_\_\_\_\_
- (A) எழுத்து, சொல், பொருள், யாப்பு, அணி ✓
- (B) சொல், பொருள், அணி, வடிவம், ஈகை
- (C) இயல், இசை, நாடகம், வாழ்வியல், நடை
- (D) இராமாயணம், மகாபாரதம், சீவகசிந்தாமணி, குண்டலகேசி, வளையாபதி

47. திருக்குறள் \_\_\_\_\_ நூல்களுள் ஒன்று.
- (A) பத்துப்பாட்டு (B) எட்டுத்தொகை
- (C) பதினென்கீழ்க்கணக்கு ✓ (D) கலித்தொகை

48. முயற்சி திருவினை ஆக்கும் எனக் கூறியவர் \_\_\_\_\_
- (A) ஒளவையார் (B) திருவள்ளுவர் ✓
- (C) பாரதியார் (D) அப்துல் கலாம்

49. கற்றலை விடவும் சிறந்தது \_\_\_\_\_
- (A) அறிவுடைமை (B) பொறையுடைமை
- (C) ஒழுக்கமுடைமை ✓ (D) குலனுடைமை

50. மதுரை என்னும் சொல்லுக்கான பொருள் \_\_\_\_\_
- (A) பொறுமை (B) இனிமை ✓
- (C) பழைமை (D) வளமை

SPACE FOR ROUGH WORK

7. ஒவ்வொரு வினாவும் (A), (B), (C) மற்றும் (D) என நான்கு விடைகளைக் கொண்டுள்ளது. நீங்கள் அவைகளில் ஒரே ஒரு சரியான விடையைத் தேர்வு செய்து விடைத்தாளில் குறித்துக் காட்ட வேண்டும். ஒன்றுக்கு மேற்பட்ட சரியான விடைகள் ஒரு கேள்விக்கு இருப்பதாகக் கருதினால் நீங்கள் மிகச் சரியானது என்று எதைக் கருதுகிறீர்களோ அந்த விடையைத்தான் விடைத்தாளில் குறித்துக் காட்ட வேண்டும். எப்படியாயினும் ஒரு கேள்விக்கு ஒரே ஒரு விடையைத்தான் தேர்ந்தெடுக்க வேண்டும்.

8. விடைத்தாளில் ஒவ்வொரு கேள்வி எண்ணிற்கும் எதிரில் (A), (B), (C) மற்றும் (D) என நான்கு வட்டங்கள் உள்ளன. ஒரு கேள்விக்கு விடையளிக்க நீங்கள் சரியென கருதும் விடையை ஒரே ஒரு வட்டத்தில் மட்டும் நீலம் அல்லது கருமை நிற மையுடைய பந்து முனைப் பேனாவினால் குறித்துக் காட்ட வேண்டும். ஒவ்வொரு கேள்விக்கும் ஒரு விடையைத் தேர்ந்தெடுத்து விடைத்தாளில் குறிக்க வேண்டும். ஒரு கேள்விக்கு ஒன்றுக்கு மேற்பட்ட விடையளித்தால் அதில் ஒன்று சரியாக இருந்தாலும் அந்த விடை தவறானதாகக் கருதப்படும். உதாரணமாக நீங்கள் (C) என்பதை சரியான விடையாகக் கருதினால் அதை பின்வருமாறு குறித்துக் காட்ட வேண்டும்.

(A) (B) (C) (D)

9. நீங்கள் வினாத் தொகுப்பின் எந்தப் பக்கத்தையும் நீக்கவோ அல்லது கிழிக்கவோ கூடாது. தேர்வு நேரத்தில் இந்த வினாத் தொகுப்பினையோ அல்லது விடைத்தாளையோ தேர்வுக் கூடத்தை விட்டு வெளியில் எடுத்துச் செல்லக்கூடாது. தேர்வு முடிந்தபின் நீங்கள் உங்களுடைய விடைத்தாளைக் கண்காணிப்பாளரிடம் கொடுத்து விட வேண்டும். இவ்வினாத் தொகுப்பினைத் தேர்வு முடிந்தவுடன் நீங்கள் உங்களுடன் எடுத்துச் செல்லலாம்.

10. குறிப்புகள் எழுதிப் பார்ப்பதற்கு வினாத் தொகுப்பின் கடைசிப் பக்கத்திற்கு முன்பக்கத்தை உபயோகித்துக் கொள்ளலாம்.

11. விண்ணப்பதாரர்கள் விடையளிக்காமல் உள்ள வினாக்களின் மொத்த எண்ணிக்கையை விடைத்தாளின் அதற்கென உரிய கட்டத்தில் எழுதி நிரப்பவும், இதற்கென கூடுதலாக ஐந்து நிமிடங்கள் வழங்கப்படும்.